

ODKODUJ i ZBUDUJ W MINECRAFT

Oceń prawdziwość każdego z podanych zdań i odkoduj obrazek według szablonu.
Zbuduj ten obrazek w Minecraft.

1	2	3	4
5	6	7	8
9	10	11	12
13	14	15	16

	Zdanie:	Prawda	Falsz
1.	<input type="text" value="prawda"/>		
2.	<input type="text" value="prawda"/>		
3.	<input type="text" value="fałsz"/>		
4.	<input type="text" value="prawda"/>		
5.	<input type="text" value="prawda"/>		
6.	<input type="text" value="prawda"/>		
7.	<input type="text" value="fałsz"/>		
8.	<input type="text" value="fałsz"/>		

	Zdanie:	Prawda	Falsz
9.	<input type="text" value="prawda"/>		
10.	<input type="text" value="prawda"/>		
11.	<input type="text" value="fałsz"/>		
12.	<input type="text" value="fałsz"/>		
13.	<input type="text" value="prawda"/>		
14.	<input type="text" value="prawda"/>		
15.	<input type="text" value="fałsz"/>		
16.	<input type="text" value="prawda"/>		

ODKODUJ i ZBUDUJ W MINECRAFT - obliczenia procentowe

Oceń prawdziwość każdego z podanych zdań i odkoduj obrazek według szablonu.
Zbuduj ten obrazek w Minecraft.

1	2	3	4
5	6	7	8
9	10	11	12
13	14	15	16

Zdanie:	Prawda	Falsz
1. 25% z 80 to 20.		
2. 35% z 200 to 70.		
3. 60% z 80 to 45.		
4. 10% z 500 to 50.		
5. 70% z 90 to 63.		
6. 20% z 150 to 30.		
7. 40% z 180 to 32.		
8. 70% z 120 to 80.		













Zdanie:	Prawda	Falsz
9. 40% z 250 to 100.		
10. 5% z 400 to 20.		
11. 2% z 150 to 30.		
12. 5% z 400 to 2.		
13. 80% z 120 to 96.		
14. 40% z 250 to 100.		
15. 30% z 150 to 50.		
16. 15% z 80 to 12.		

ODKODUJ i ZBUDUJ W MINECRAFT

Oceń prawdziwość każdego z podanych zdań i odkoduj obrazek według szablonu.
Zbuduj ten obrazek w Minecraft.

1	2	3	4
5	6	7	8
9	10	11	12
13	14	15	16

- Zdanie: Prawda Fałsz
1. Liczba 121 152 jest podzielna przez 3.  
2. Liczba 4 ma trzy dzielniki.  
3. 1 jest liczbą pierwszą.  
4. Kwadrat ma 4 osie symetrii.  
5. Każdy romb jest trapezem.  
6. Każdy kwadrat jest równoległobokiem.  
7. Każdy równoległobok jest prostokątem.  
8. Rozwiązaniem równania $x-3=-5$ jest -8.  

- Zdanie: Prawda Fałsz
9. Rozwiązaniem równania $2x - 5 = 7$ jest 6.  
10. Iloczyn liczb -2 i -5 jest równy 10.  
11. Różnica liczb -3 i 6 jest równa -3.  
12. Kwadrat dowolnej liczby jest liczbą dodatnią.  
13. Suma liczb przeciwnych jest równa 0.  
14. Iloczyn liczb odwrotnych jest równy 1.  
15. Przekątne każdego rombu są równej długości.  
16. Graniastosłup trójkątny ma 6 wierzchołków. 