

Zagadka 1

$$\text{Stegosaurus} + \text{Stegosaurus} + \text{Stegosaurus} = 9$$










$$\text{Triceratops} + \text{Parasaurolophus} + \text{Parasaurolophus} = 13$$

$$\text{Triceratops} - \text{Stegosaurus} = 2$$

$$\text{Parasaurolophus} + \text{Stegosaurus} = ?$$

O_MATMO

Zagadka 2

| | | | |
|---|---|--|---|
|  |  |  | 7 |
|  |  |  | 8 |
|  |  |  | ? |
| 12 | 8 | O_MATMO | |